


№1


НАРИСУЙ НА КАРТЕ СВЕТОФОРЫ



| | | | | | | |
|---|--|--|---|---|--|---|
| Д | | | О | Г | | |
| С | | | Т | | | Р |



РАЗГАДАЙ ДОРОЖНЫЕ ЗНАКИ

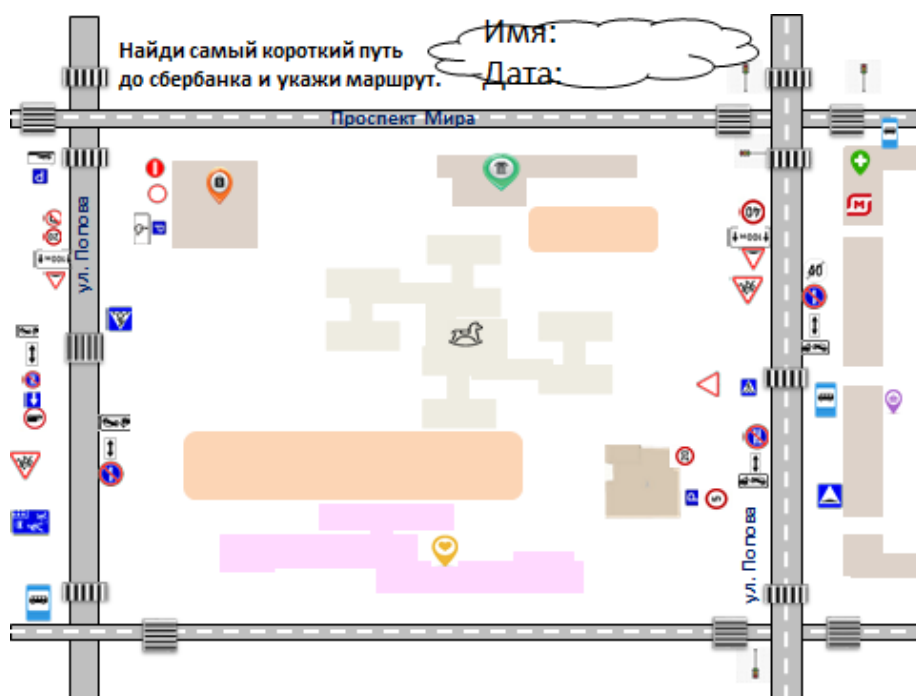








НАЙДИ ИХ МЕСТО НА ПЛАНЕ



№ 3

НАЙДИ МЕСТО ПАРКОВОК НА ПЛАНЕ



| | | |
|--|---|--|
|  <p>Как называется дорожный знак?</p>  |  <p>Из каких геометрических фигур он состоит?</p> |  <p>Какого цвета дорожный знак?</p> |
|  <p>Что изображено на дорожном знаке?</p> |  <p>Для кого дорожный знак: для пешехода или автомобиля?</p> | |

№5



| | | | |
|---|--|--|--|
| 3 | | | |
|---|--|--|--|

РАСКРАСЬ ЗНАКИ



НАЙДИ И СОСЧИТАЙ

○ - □ ?

□ - □ ?


НАЙДИ И СОСЧИТАЙ ГЕОМЕТРИЧЕСКИЕ ФИГУРЫ В ДОРОЖНЫХ ЗНАКАХ











○ △ 六边形 □

△

六边形

□


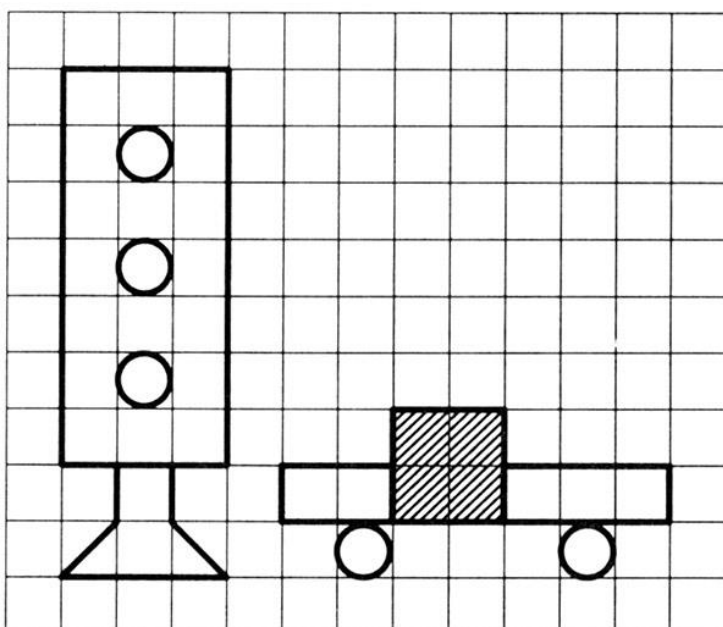
Автор: 

| | |
|--|---------|
|     | △ - □ ? |
|    | □ - □ ? |
|    | ○ - □ ? |
| | □ - □ ? |



№7


СКОПИРУЙ РИСУНОК



№8 ДОРISУЙ ДОРОЖНЫЕ ЗНАКИ



НАРИСУЙ ДОРОЖНЫЙ ЗНАК



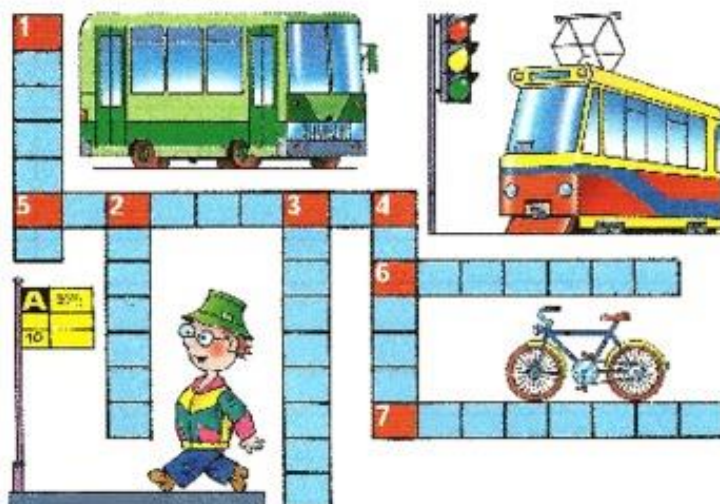


№10

ДОРISУЙ НЕДОСТОЮЩИЙ ЗНАК



1. Человек, идущий пешком.
2. Вид транспорта.
3. Двухколесный транспорт.
4. Вид транспорта на колесах.
5. Место, где пассажиры делают посадку и высадку из маршрутного транспорта
6. Место для движения пешеходов.
7. Устройство, регулирующее движение.



«Пешеходный переход»



Всем знакомые полосы
Знают дети, знает взрослый,
На ту сторону ведет
Пешеходный переход.

УЗНАЙ СКОЛЬКО БЕЛЫХ ПОЛОС НА ПЕШЕХОДНОМ ПЕРЕХОДЕ

Светофор нам говорит,
Кто идёт, а кто стоит!

The diagram consists of a traffic light on the left with three circles representing lights. A vertical line extends from the bottom of the traffic light to a horizontal line of 11 white rectangular stripes, representing a zebra crossing. The stripes are evenly spaced and extend to the right.

№13 СРАВНИ ЗНАКИ
НАЗОВИ СХОДСТВА И РАЗЛИЧИЯ



СКОПИРУЙ ИХ

Пешеходный переход

Пешеходный
переход,
Здесь хозяин –
пешеход!
Пешехода
пропусти,
Не мешай ему идти!



РАЗДЕЛИ СЛОВА НА СЛОГИ

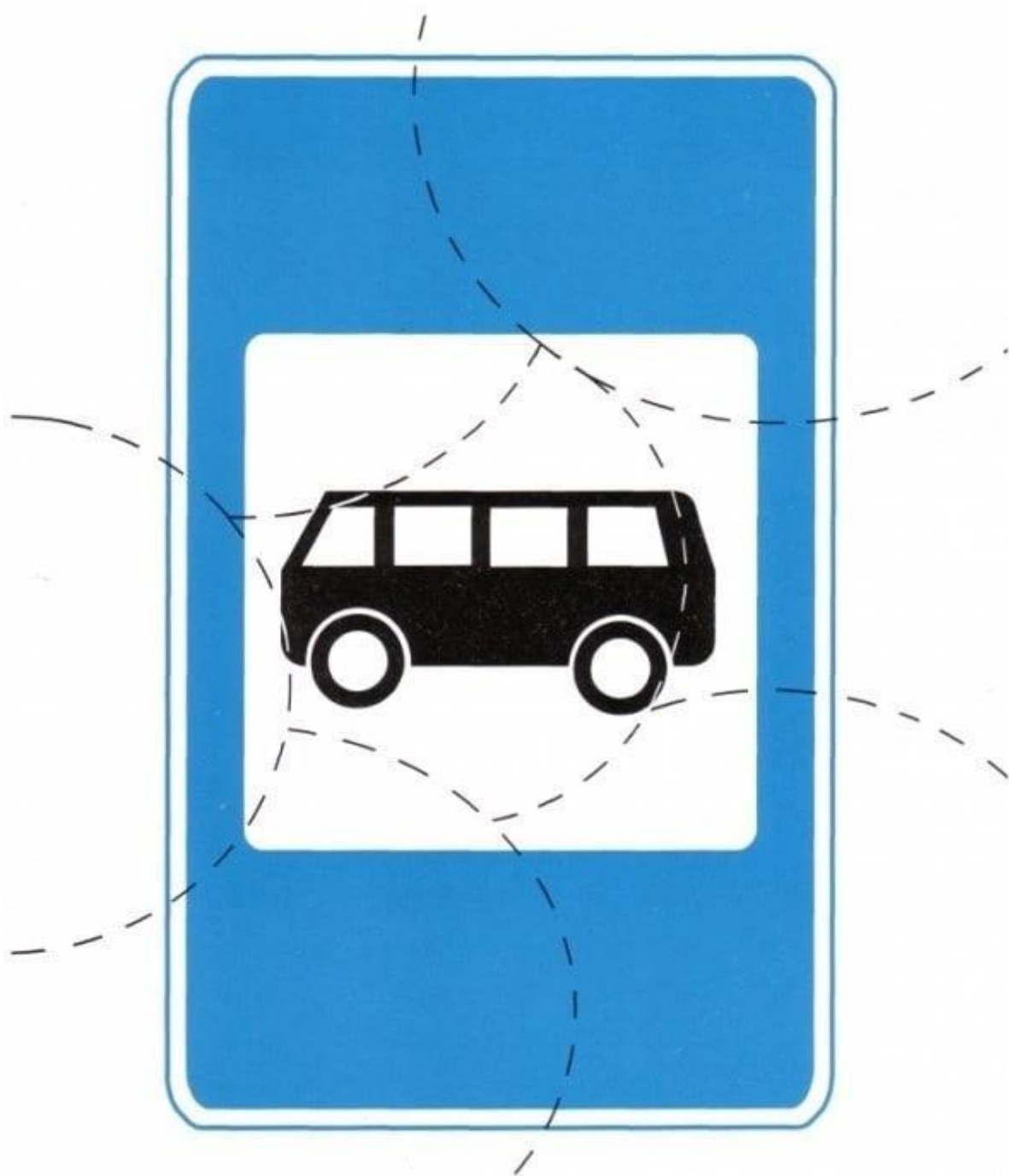
ПЕРЕХОД

ПЕШЕХОД

СОСТАВЬ ПРЕДЛОЖЕНИЕ ИСПОЛЬЗУЯ ЭТИ СЛОВА

_____.

№15



№16 УЗНАЙ СКОЛЬКО ЗНАКОВ НА ПЛАНЕ?




НАЙДИ ЗНАКИ ОГРАНИЧЕНИЯ СКОРОСТИ

(НА МЕСТНОСТИ)

УЗНАЙ ИХ КОЛИЧЕСТВО




ЗАЧЕРКНИ ТЕ , КОТОРЫЕ НЕ ВСТРЕТИЛИСЬ ТЕБЕ НА ПУТИ



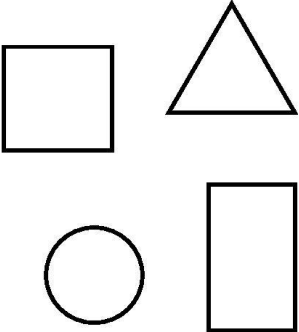





№18 СРАВНИ ЧИСЛА НА ДОРОЖНЫХ ЗНАКАХ

(< >)



№19 МНЕМОТАБЛИЦА

| | | |
|--|---|--|
|  <p>Как называется дорожный знак?</p>  |  <p>Из каких геометрических фигур он состоит?</p> |  <p>Какого цвета дорожный знак?</p> |
|  <p>Что изображено на дорожном знаке?</p> |  <p>Для кого дорожный знак: для пешехода или автомобиля?</p> | |

№20 ЧТО ЛИШНЕЕ?

КАКАЯ КАРТИНКА ЛИШЯЯ И ПОЧЕМУ?



№21 КАКОЙ ФОРМЫ ЗНАК?



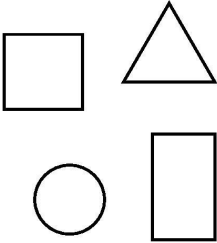





?



№22 ЗАГАДАЙ ДОРОЖНЫЙ ЗНАК



| | | |
|--|--|---|
|  <p>Как называется дорожный знак?</p>  |  <p>Из каких геометрических фигур он состоит?</p> |  <p>Какого цвета дорожный знак?</p> |
|  <p>Что изображено на дорожном знаке?</p> |  <p>Для кого дорожный знак: для пешехода или автомобиля?</p> | |